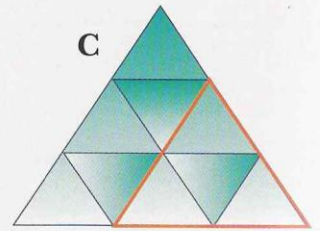
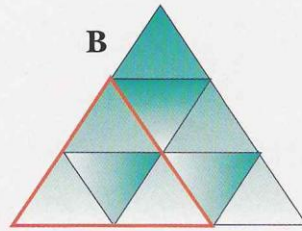
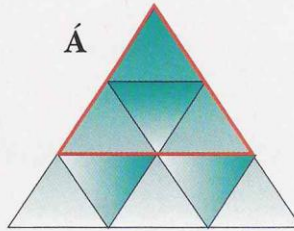



# PROBLEMAS MANIPULATIVOS

## ► Subtriángulos

Coloque las cifras del 1 al 9 (sin repetir) en las casillas triangulares de modo que la suma total de los tres subtriángulos A, B y C sea la misma. Además, dos casillas que sean vecinas no pueden contener números consecutivos (dos casillas son vecinas si comparten uno de sus lados).

### SUBTRIÁNGULOS



*Revista Newton, diciembre de 1999*

